

LUYÊN TẬP

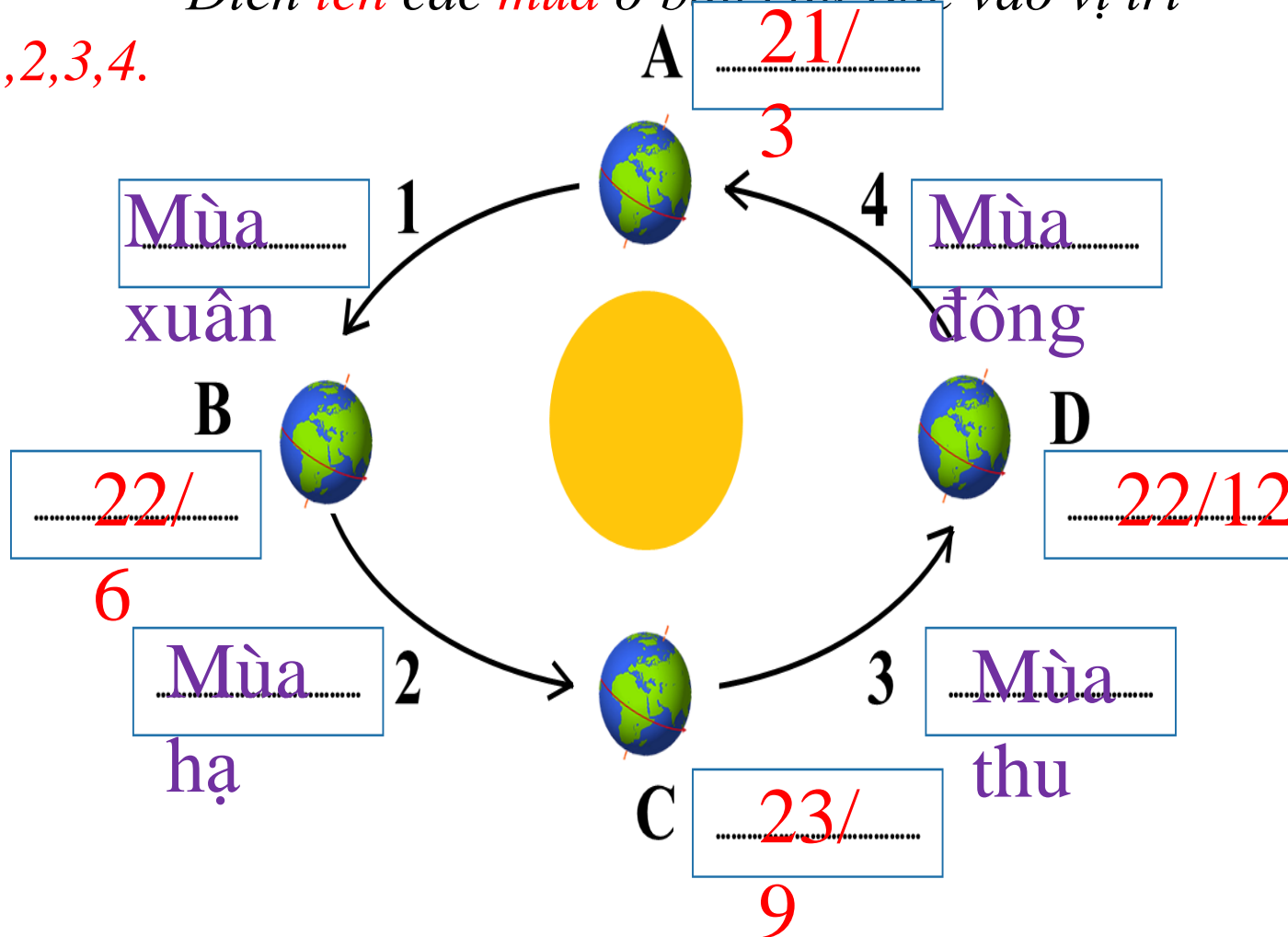
LUYỆN TẬP

Dựa vào hình 7.1, kiến thức đã học và trò chơi ở nhiệm vụ 1, em hãy:


- Điền **tên các ngày** đặc biệt vào các vị trí của Trái Đất ở **A,B,C,D**

- Điền **tên các mùa** ở **bán cầu Bắc** vào vị trí

1,2,3,4.



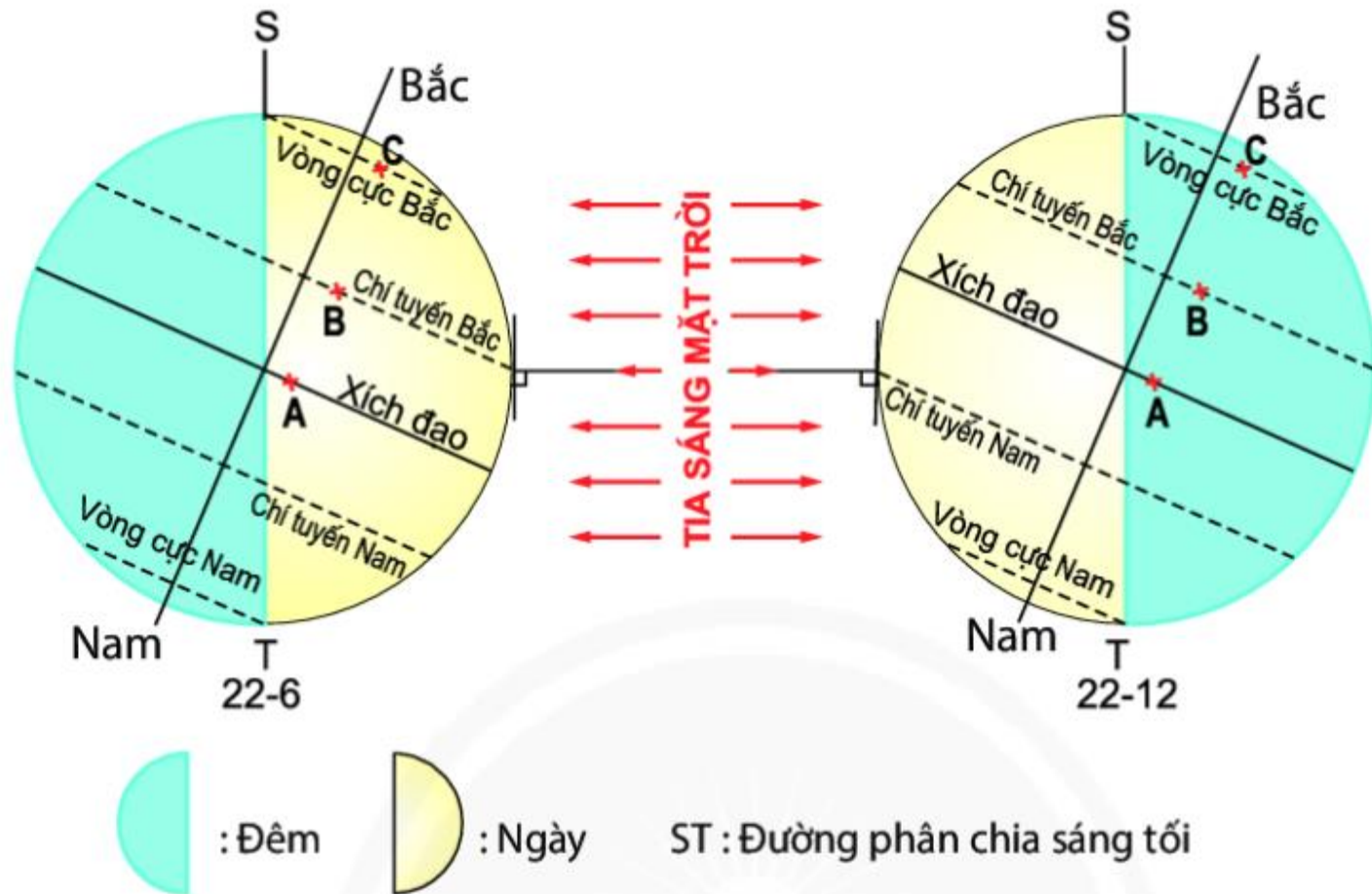
LUYỆN TẬP



Vận dụng kiến thức đã học giải thích câu tục ngữ.

“Đêm tháng năm chưa nằm đã sáng
Ngày tháng mười chưa cười đã

Nghèo tháng mười chưa cười đã



Hình 7.3. Hiện tượng ngày đêm dài ngắn theo mùa.

Câu 1:Hướng chuyển động quanh Mặt Trời của Trái Đất?

- A. Từ Tây sang Đông
- B. Từ Đông sang Tây

Câu 2:Thời gian Trái Đất chuyển động một vòng quanh Mặt Trời là bao lâu?

- A. 24 giờ
- B. 36 giờ
- C. 365 ngày 6 giờ
- D. 365 giờ 6 ngày

- Câu 3: Hình dạng quỹ đạo chuyển động quanh Mặt Trời của Trái Đất?
 - A. Hình tròn
 - B. Hình E-Líp gần tròn
 - C. Hình vuông
 - D. Hình tam giác

Câu 4: Độ nghiêng và hướng nghiêng của trục Trái Đất khi chuyển động quanh Mặt Trời?

- A. $66^{\circ}33'$ và hướng nghiêng của trục không đổi.
- B. $66^{\circ}33'$ và hướng nghiêng của trục thay đổi đổi.

Câu 5: Hệ quả của Trái Đất quay quanh Mặt Trời

- A. Hiện tượng mùa, hiện tượng ngày đêm dài ngắn khác nhau.
- B. Hiện tượng ngày đêm luân phiên nhau
- C. Giờ trên Trái Đất
- D. Sự lệch hướng chuyển động

Câu 6: Một năm có bao nhiêu mùa?

- A. 1
- B. 2
- C. 3
- D. 4

- Câu 7: Mùa nóng hiện tượng ngày diễn ra như thế nào?
- A. ngày dài hơn đêm
- Đêm dài hơn ngày
- Câu 8: Mùa lạnh hiện tượng ngày diễn ra như thế nào?
- A. ngày dài hơn đêm
- B.Đêm dài hơn ngày

Câu 9: Các địa điểm nằm trên đường xích đạo quanh năm có ngày, đêm như thế nào?

- A. ngày dài hơn đêm
- B. Đêm dài hơn ngày
- C. Ngày đêm bằng nhau